

Sudety

23.08.2013 r. — część pisemna

1. Hrabstwo kłodzkie utworzył:
 - a. ks. Jan ziębicki,
 - b. król Jerzy z Podiebradów,
 - c. król Maciej Korwin,
 - d. cesarz Ferdynand II.


2. Które zdanie o kościołach protestanckich na Śląsku w XVII i XVIII w. jest prawdziwe:
 - a. zawsze miały empory,
 - b. zawsze miały ołtarz połączony z amboną,
 - c. zawsze miały tylko jeden ołtarz,
 - d. nie występowały w nich wyobrażenia postaci ze Starego Testamentu.

3. Zdanie *day ut ia pobrusa a ti poziway* zapisano ok.:
 - a. 1155 r.,
 - b. 1241 r.,
 - c. 1270 r.,
 - d. 1305 r.

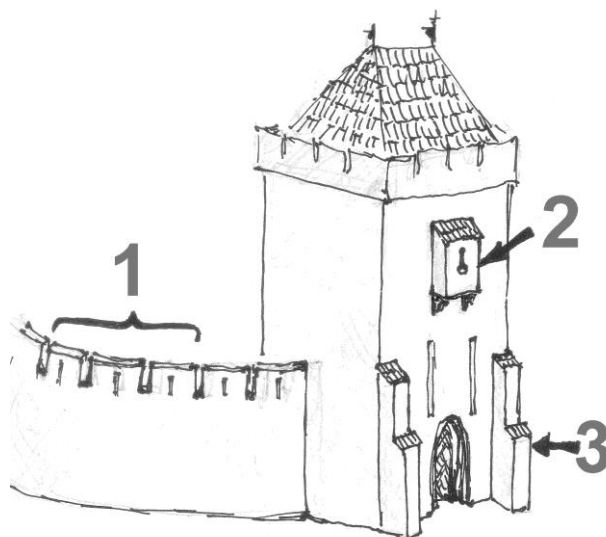
4. Uszereguj chronologicznie wydarzenia – wybierz poprawną kolejność:
 1. lokacje pierwszych miast na Śląsku,
 2. ufundowanie klasztoru w Lubiążu,
 3. śmierć ks. Henryka Pobożnego,
 4. powrót Bolesława Wysokiego na Śląsk,
 - a. 2 – 3 – 4 – 1,
 - b. 4 – 3 – 1 – 2,
 - c. 2 – 1 – 4 – 3,
 - d. 4 – 2 – 1 – 3.

5. Śląsk w większej części przeszedł pod panowanie pruskie w wyniku
- dziedziczenia po Ludwiku Jagiellończyku zabitym pod Mohaczem,
 - wojny trzydziestoletniej i pokoju westfalskiego,
 - przeprowadzonego po I wojnie światowej plebiscytu,
 - I wojny śląskiej i pokoju wrocławskiego
6. Które z wymienionych miejscowości nie leżą na historycznym Śląsku? Międzygórze, Nysa, Bardo, Wałbrzych, Lubań, Świerzawa.
- Międzygórze, Nysa i Bardo,
 - Lubań, Świerzawa i Nysa,
 - Międzygórze i Lubań,
 - Wałbrzych i Świerzawa
7. Określ specjalności poniższych twórców:
- Georg (Jerzy) Leonard Weber,
 - Georg (Jerzy) Wilhelm Neunhertz,
 - Carlo Lurago,
 - Feliks Anton Scheffler,
- malarze: 2, 4, rzeźbiarze: 1, architekci: 3.,
 - malarze: 2, rzeźbiarze: 3, 4, architekci: 1.,
 - malarze: 4, 1, rzeźbiarze: 2, architekci: 3.,
 - malarze: 4, rzeźbiarze: 2, architekci: 1, 3.

8. Przedstawieni święci to:



- Marek, Wawrzyniec, Jadwiga,
 - Łukasz, Jakub St., Dorota,
 - Marek, Bartłomiej, Barbara,
 - Mateusz, Wincenty, Maria Magdalena.
9. Który zestaw zawiera tylko poprawne nazwy zaznaczonych elementów architektonicznych:



- 1 – machikuły, 2 – loggia, 3 – skarpa,
- 1 – hurdyce, 2 – ryzalit, 3 – kroksztyn,
- 1 – krenelaż, 2 – wykusz, 3 – przypora,
- 1- blankowanie, 2 – alkierz, 3 – wspornik.

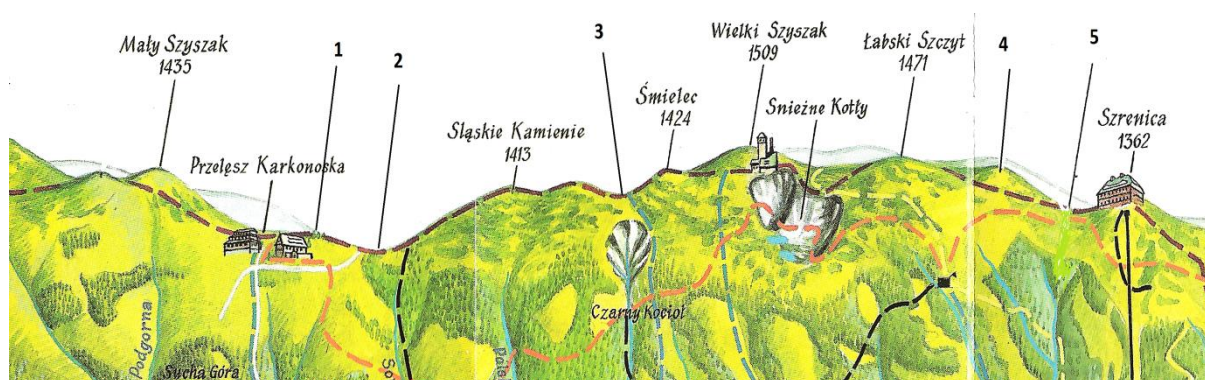
10. Na szczycie Gromnika znajduje się:

- ścisły rezerwat (las bukowy; niedostępny dla turystów),
- wieża widokowa i pozostałości zamku,
- wieża antenowa i wiata turystyczna z bufetem,
- pozostałości pałacyku myśliwskiego opatów henrykowskich.

11. Grzbiet Kamienicki to część Gór:

- Kamiennych,
- Wałbrzyskich,
- Izerskich,
- Kaczawskich.

12. Na panoramicznej mapie zaznaczono kolejno cyframi od 1 do 5 następujące obiekty topograficzne:



- 1 – Tępy Szczyt; 2 – Mokra Przełęcz; 3 – Przełęcz pod Śmielem; 4 – Kamiennik; 5 – Mokra Przełęcz,
- 1 – Tępy Szczyt; 2 – Czarna Przełęcz; 3 – Przełęcz pod Śmielem; 4 – Sokolnik; 5 – Mokra Przełęcz,
- 1 – Ptasi Kamień; 2 – Przełęcz Dołek; 3 – Czarna Przełęcz; 4 – Sokolnik; 5 – Mokra Przełęcz,
- 1 – Sokolnik; 2 – Przełęcz Dołek; 3 – Czarna Przełęcz; 4 – Tępy Szczyt; 5 – Mokra Przełęcz.

13. Spośród wymienionych obiektów najwyżej nad poziomem morza leży:

- Wysoka Kopa,
- Wielka Kopa,
- Przełęcz Okraj,
- Schronisko Samotnia.

14. Jedyną rzeką sudecką mającą źródła i ujście w Polsce a środkowy bieg w Czechach jest:
- Witka,
 - Ścinawka,
 - Biała Łądecka,
 - Nysa Kłodzka.
15. Usystematyzuj szczyty od najniższego do najwyższego:
- 1 – Biskupia Kopa; 2 – Kłodzka Góra; 3 – Jagodna; 4 – Orlica; 5 – Postawna,
 - 1 – Kłodzka Góra; 2 – Biskupia Kopa; 3 – Jagodna; 4 – Orlica; 5 – Postawna,
 - 1 – Kłodzka Góra; 2 – Jagodna; 3 – Biskupia Kopa; 4 – Orlica; 5 – Postawna,
 - 1 – Kłodzka Góra; 2 – Biskupia Kopa; 3 – Jagodna; 4 – Postawna; 5 – Orlica.
16. Victoria i Thorez to nazwy kopalń w:
- Wałbrzychu,
 - Nowej Rudzie,
 - Boguszowie-Gorcach,
 - Leszczynie.
17. Związana z totalitarnym ustrojem powojennej Polski jedna z najsilniejszych stacji zagłuszających „Radio Wolna Europa” była zlokalizowana:
- w ośrodku teletransmisyjnym nad Śnieżnymi Kottłami,
 - na górze Chelmiec w okolicach Wałbrzycha,
 - ośrodku teletransmisyjnym na Ślęży,
 - wykorzystywała ponemieckie urządzenia radiolokacyjne na Stogu Izerskim.
18. Główny Szlak Sudecki, Europejski Szlak Długodystansowy E-3 i Szlak Zamków Piastowskich spotykają się:
- trzy wymienione szlaki nigdzie się nie spotykają,
 - na zaporze w Pilchowicach,
 - na zamku Grodno,
 - na Skalniku.
19. Rezerwat „Jeziorko Daisy” znajduje się:
- w Górach Wałbrzyskich,
 - na Pogórzu Wałbrzyskim,
 - w Kotlinie Wałbrzyskiej,
 - na Równinie Świdnickiej.

20. Najwyższym szczytem Rudaw Janowickich jest:

- a. Skalniak,
- b. Skalna,
- c. Skalnik,
- d. Wotek.

21. Granicą południową uprawnień przewodnika górskiego na terenie Karkonoszy jest:

- a. południowa fizjograficzna granica Sudetów,
- b. południowa granica państwa,
- c. południowa granica uprawnień określona przez władze Republiki Czeskiej,
- d. południowa granica KRNAP.

22. Przewodnik prowadzący grupę zleconą przez biuro turystyczne musi ze sobą posiadać:

- a. Czerwoną bluzę (kurtkę, polar itp.) z białym paskiem na lewym ramieniu,
- b. Czerwoną czapkę z napisem „Przewodnik Sudecki” i identyfikator,
- c. Zlecenie prowadzenia wycieczki z biura turystycznego, legitymacje przewodnika górskiego oraz identyfikator,
- d. Odznakę PTTK „Przewodnik Sudecki”.

23. Przewodnik turystyczny posiadający uprawnienia do prowadzenia po Sudetach ma prawo do:

- a. prowadzenia pieszych wycieczek górskich wszystkimi szlakami oznakowanymi w warunkach letnich i w warunkach zimowych, oraz wycieczek autokarowych,
- b. prowadzenia pieszych wycieczek górskich w warunkach letnich szlakami oznakowanymi, pieszych wycieczek w warunkach zimowych szlakami określonymi w programach szkolenia, a także wycieczek autokarowych,
- c. prowadzenia wycieczek w warunkach letnich i zimowych po szlakach i drogach dopuszczonych do ruchu turystycznego, w tym także wycieczek autokarowych,
- d. prowadzenia wycieczek górskich w warunkach letnich wszystkimi szlakami dopuszczonymi do ruchu turystycznego a w warunkach zimowych wszystkimi szlakami oznakowanymi na obszarze uprawnień, oraz wycieczek autokarowych.

24. Marmur jest skałą:

- a. osadową,
- b. głębinową,
- c. wulkaniczną,
- d. metamorficzną.

25. W Karkonoszach nie występują:

- a. gnejsy i bazalty,
- b. piaskowce i wapienie krystaliczne,
- c. riolity i piaskowce,
- d. gnejsy i łupki łuszczyste.

26. Rezerwat przyrody „Buki Sudeckie” znajduje się w:

- a. Górach Kamiennych,
- b. Górach Kaczawskich,
- c. Górach Białskich,
- d. Masywie Śnieżnika.

27. Uprawnienia Przewodnika Turystycznego nadaje:

- a. Komisja egzaminacyjna Urzędu Marszałkowskiego ds. Przewodników,
- b. Minister Sportu i Turystyki,
- c. Marszałek Województwa,
- d. Zarząd Główny PTTK (na wniosek Komisji Przewodnickiej ZG).

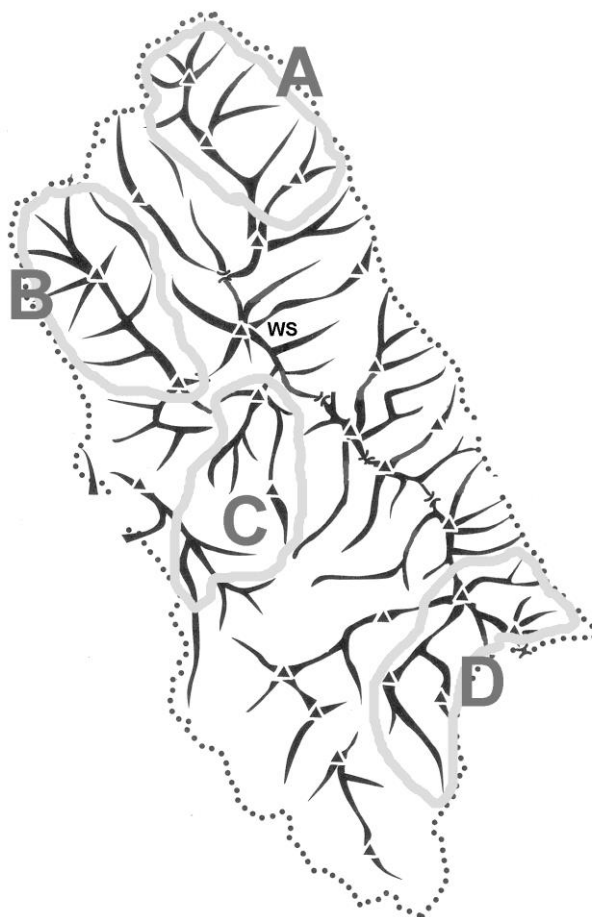
28. Wzorzec geograficzny to:

- a. urządzenie nawigacyjne służące do wyznaczania kierunku bieguna magnetycznego,
- b. opracowany przez Międzynarodową Unię Geograficzną algorytm obliczania odległości za pomocą GPS,
- c. przyrząd służący do mierzenia na mapie długości linii krzywych, zapewniający szybki, prosty i dokładny pomiar odległości na mapach,
- d. porost.

29. Roślina przedstawiona na zdjęciu to:

- a. barszcz Sosnowskiego,
- b. czosnek niedzwiedzi,
- c. koper ogrodowy,
- d. ciemiężycy zielona.

30. Rysunek przedstawia schemat przebiegu grzbietów w Górach Sowich (WS – Wielka Sowa). Udostępnione turystycznie obiekty przedsięwzięcia „Riese” znajdują się w rejonie oznaczonym literą:



- a. A,
- b. B,
- c. C,
- d. D.